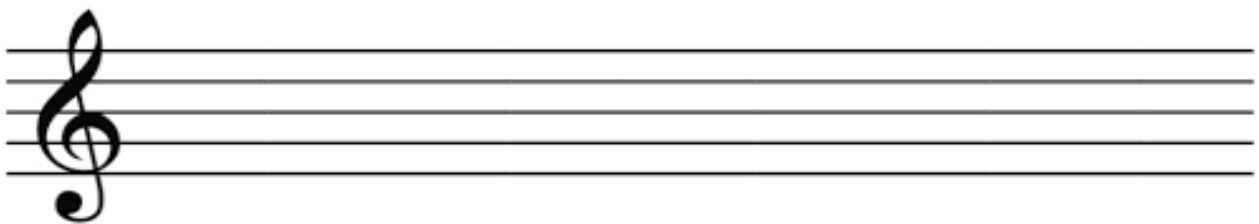
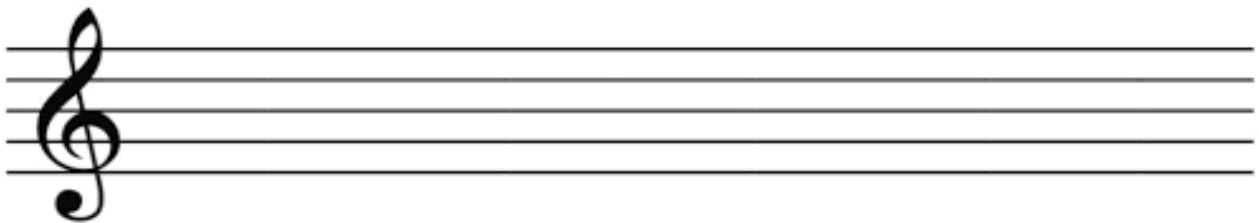


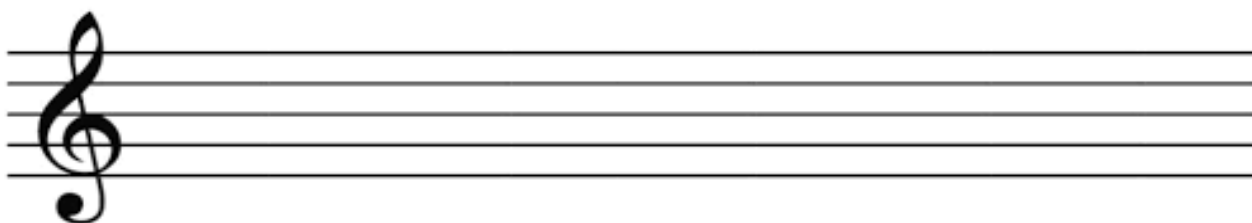
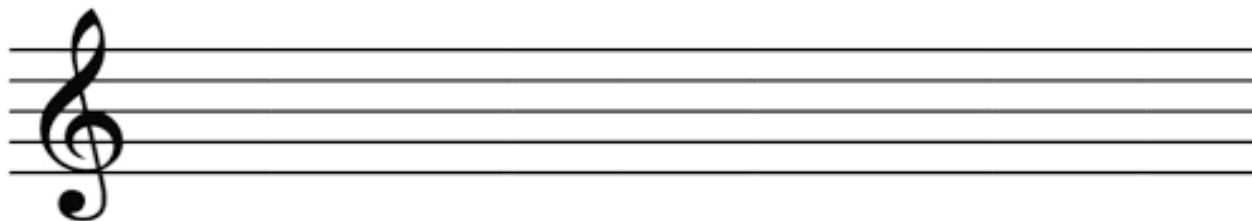
1. Napiš stupnici fis moll harmonickou a melodickou, pod tóny napiš jejich názvy:



2. Zakroužkuj noty, které jsou správně:

cis2    deses2    gisis2    asas2    fisis2    heses1    disis2    aisis2    asas1

3. Opět se vrátíme k durovým stupnicím s béčky. Napiš stupnice Es dur a As dur, označ stříškou půltóny, pod noty napiš jejich názvy, označ hlavní stupně (T, S, D), za stupnici napiš i T5:



4. Doplň tónický kvintakord (T5), sextakord (T6) a kvartsextakord (T64) v D dur a A dur:



D:T5

T6

T64

A:T5

T6

T64