

3. ročník

Zopakuj si základní intervaly, jejich rozdělení na čisté a velké. Vzpomeň si na naši pomůcku 落落 - schované prstíky jsou velké a zdvižené prstíky jsou čisté. Sečti intervaly (čísla) a výsledný interval správně označ (čistý nebo velký).











INTERVALY

Opakování:

1. Interval je vzdálenost mezi dvěma tóny.
2. Dělí se na velké a čisté.
3. Základní intervaly jsou: prima, sekunda, tercie, kvarta, kvinta, sexta, septima a oktáva.
4. Vzdálenost intervalu se počítá včetně prvního tónu. Například: velká sekunda od C je D.

 Dopln intervaly nebo názvy intervalů a vypočítej příklady.

Například:

 v.3 + č.5 = č.8	 ___ + ___ = ___
 č.4 + v.3 = ___	 ___ + ___ = ___
 č.1 + v.6 = ___	 ___ + ___ = ___
 č.5 + v.2 = ___	 ___ + ___ = ___
 č.8 - v.7 = ___	 ___ - ___ = ___