
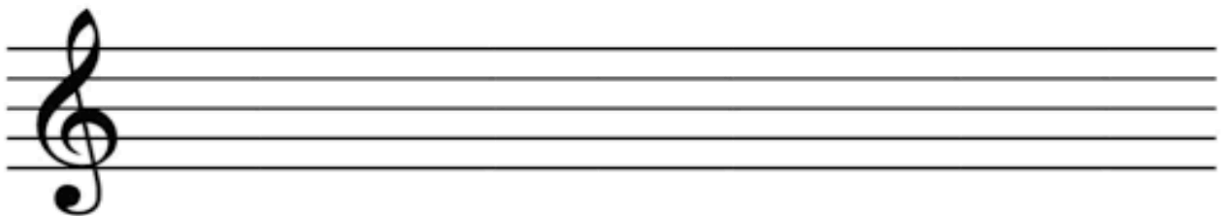


3. ročník


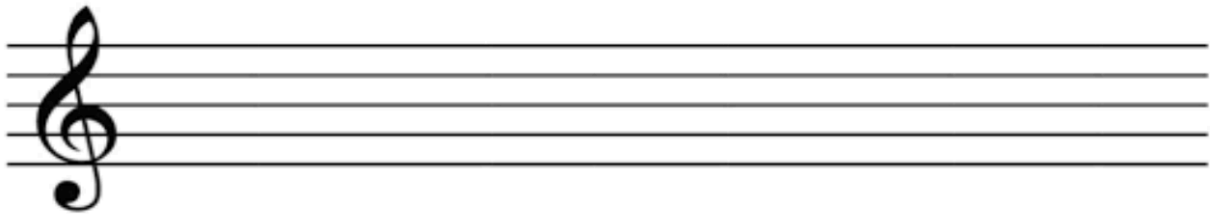
1. Procvičíme si intervaly, označ jen základní (velké a čisté), zbývající si opravíme v on-line hodině. Dopiš taktové čáry:



2. Napiš stupnici h moll harmonickou a melodickou, pod noty napiš jejich názvy:



3. Připomeneme si i durové stupnice s béčky. Napiš stupnici F dur a B dur, označ stříškou půltóny, pod noty napiš jejich názvy, označ hlavní stupně (T, S, D), za stupnici napiš i T5:



4. Opakování B. Smetana, A. Dvořák:

1. Kde se narodil Bedřich Smetana? _____.
2. Jaké povolání vykonával otec Antonína Dvořáka? _____.
3. Kdo se narodil dříve, A. Dvořák nebo B. Smetana? _____.
4. Pobyt ve které zemi ovlivnil A. Dvořáka k napsání jeho 9. symfonie Z nového světa?
_____.
5. B. Smetana založil pěvecký sbor, jak se jmenoval? _____.
6. Kolik oper napsal B. Smetana? _____.
7. A. Dvořák napsal ____ symfonií a ____ opery.
8. Jakou zálibu měl A. Dvořák? _____.
9. Jak se jmenuje cyklus symfonických básní B. Smetany, kterými vždy každoročně začíná festival Pražské jaro? _____.
10. Stejně jako L. van Beethoven, i B. Smetana ke konci života skládal hudbu,
i když byl _____.
11. Kde jsou oba čeští skladatelé pohřbení? _____.